




せいしょうねん
びわ青少年の家で見つけた生き物を
3つ書いてください。



問題 2

スタッフハウスには、人が(?)人
えが
描かれています。





^{せいしょうねん}
びわ青少年の家にはないものは、次の
うちどれでしょう。

ア： 電話ボックス

イ：^{じどうはんばいき}
自動販売機

ウ： 動物のはく^{せい}製





問題 4

しゅくはくとう
宿泊棟からスタッフハウスまでは、
（？）段の階段で行くことができます。






平塚市の市民の鳥は、シラサギ。

市民の花は、ナデシコ。


市民の木は、(?)。

ひろばしゅうへん
広場周辺で答えを見つけよう。





^{もんだい}この問題カードがかかっている^{しょくぶつ}植物
^えの^か絵を描いてください。





問題 7

第一^{だい}野外^{いちやがい}炊事場^{いすいじば}の野外^{やがい}食卓^{しょくたく}の数

+


第二^{だい}野外^{にやがい}炊事場^{いすいじば}のかまどの数

-

野外^{やがい}トイレ^{いし}の蛇口^{じちぐち}の数

=

(?)






せいしょうねん とち
びわ青少年の家の土地の広さに一番
近いものは、次のうちどれでしょう。

ア： サッカーグラウンド 2 面分

イ： サッカーグラウンド 4 面分

ウ： サッカーグラウンド 8 面分





この場所で聞こえた音を文字にして
あらわ
表してください。



問題 10

せいしょうねん ひょうこう なん
びわ青少年の家の標高は、何メートルでしょう。



問題 11

あんないず
正しい案内図は、どちらでしょう。

ア：



イ：






問題 12

せいしょうねん いち
びわ青少年の家がある正しい位置を


しめ
示しているのは、次のうちどれでしょう。






せいしょうねん しきちない み
びわ青少年の家の敷地内で、見かけ
ることがない動物は、次のうちどれで
しょう。

- ア： タヌキ
- イ： イノシシ
- ウ： ヒグマ
- エ： ハクビシン
- オ： サル





せいしょうねん
びわ青少年の家にある、青い屋根の
たてももの
建物の名前はなんというでしょう。






しゅくはくとう 宿泊棟のすぐ下にある ちゅうしゃじょう 駐車場に
は、車を (?) 台 ちゅうしゃ 駐車できます。





問題 16

しゃしん かく
写真の隠れているところには、なんと
書いてあるでしょう。





問題 17

第二^{だいに}野外炊事場^{やがいすいじば}の野外食卓^{やがいしょくたく}の数

+

施設内^{しせつない}のトーテムポール^{トーテムポール}の数

=

(?)

※ トーテムポールとは動物^{どうぶつ}や物語^{ものがたり}の人物^{じんぶつ}などが彫刻^{ちようこく}された木の柱^{はしら}のこと。



せいしょうねん
びわ青少年の家で作ることができない
ものは、次のうちどれでしょう。

ア： サツマイモ

イ： カレー

ウ： バームクーヘン

エ： お米

オ： 竹のしょっき食器



ほんとう とり
本当にいる鳥は、次のうちどれでしょう。

しゅくはくとう すかん しら
宿泊棟ロビーにある図鑑で調べてみよ
う。

ア： ウソ

イ： マジ



なかまはず
仲間外れは、次のうちどれでしょう。

しゅくはくとう
宿泊棟ロビーにある図鑑ずかんで調べてみよ
う。

ア： アサガオ

イ： ヒルガオ

ウ： ユウガオ